

Základní škola Vitějovice, okres Prachatice










Výukový materiál zpracován v rámci projektu EU peníze školám

Registrační číslo projektu: CZ.1.07/1.4.00/21.3540

Název projektu: Interaktivní škola pro konkurenceschopnost

Šablona:	III/2	č.materiálu:	VY_32_INOVACE_13
Jméno autora:	Mgr. Vladimír Trávníček		
Třída/ročník:	I. /2. ročník/		
Datum vytvoření:	19. 5. 2012		
Vzdělávací oblast:	Matematika a její aplikace		
Předmět:	Matematika		
Výstižný popis způsobu využití případně metodické pokyny:	Malá násobilka, dělení 4, dělení po 4, dělení do 4, řešení sl. úlohy		


Dělení po 4: V obchodě balili tužky do balíčků po 4. Kolik balíčků vytvořili?
 Dopiš příklad:

	4 tužky	<input type="text"/>
	8 tužek	<input type="text"/>
	12 tužek	<input type="text"/>
	16 tužek	<input type="text"/>
	20 tužek	<input type="text"/>
	24 tužky	<input type="text"/>
	28 tužek	<input type="text"/>

The image displays three rows of red pencil icons on a yellow-to-green gradient background. Each row is separated by a horizontal black line. Below each row of pencils is a colored rectangular box containing a number and the word 'tužek' (pencils), followed by an empty white rectangular box.


- Row 1: 32 pencils, labeled "32 tužek" in a red box, followed by an empty white box.
- Row 2: 36 pencils, labeled "36 tužek" in a yellow box, followed by an empty white box.
- Row 3: 40 pencils, labeled "40 tužek" in a blue box, followed by an empty white box.

Pan učitel rozával žákům obrázky po 4. Kolik žáků dostalo obrázky?




Fotbalisty dostalo ___ žáků.


$24 : 4 = \underline{\quad}$



Skateboardisty dostalo ___ žáků.



Cyklisty dostalo ___ žáků.



Gymnastky dostalo ___ žáků.


Dělení do 4: Trenér rozdělil 16 atletů na tréninku do 4 družstev. Kolik atletů bylo v každém družstvu?

Zápis:
 atletů _____
 družstev _____
 v každém družstvu _____


Výpočet: $x =$ _____
 $x =$ _____

Odpověď:

Dělení 4: Procvičuj příklady na dělení 4:



A large empty rectangular box with a dark blue border, intended for writing. In the top-left corner of the box is a small blue button with two white right-pointing arrows. In the bottom-left corner is a blue button labeled "Reset". In the bottom-right corner is a small globe icon showing the Americas, with a grey arrow pointing to the right.



Zdroje:

