

Základní škola Vitějovice, okres Prachatice



INVESTICE DO ROZVOJE VZDĚLÁVÁNÍ



Výukový materiál zpracován v rámci projektu EU peníze školám

Registrační číslo projektu: CZ.1.07/1.4.00/21.3540

Název projektu: Interaktivní škola pro konkurenceschopnost

Šablona:	III/2	č.materiálu:	VY_32_INOVACE_5
Jméno autora:	Mgr. Vladimír Trávníček		
Třída/ročník:	I. /2. ročník/		
Datum vytvoření:	17. 4. 2012		
Vzdělávací oblast:	Matematika a její aplikace		
Předmět:	Matematika		
Výstižný popis způsobu využití případně metodické pokyny:	Malá násobilka, opakování, násobení a dělení 2, polovina z čísla, řešení slovních úloh a rovnic, 1 pár = 2 kusy		

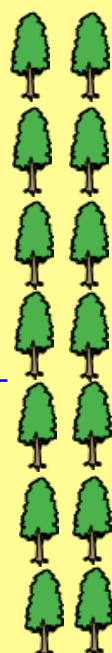
Zahradník vysazoval stromy. Vysadil 7 řad po 2 stromech. Kolik stromů celkem vysadil?

Zápis:

řad _____
 v každé řadě _____
 celkem stromů _____

Výpočet: $x =$ _____
 $x =$ _____

Odpověď: _____



Počet řad po 2	<input type="text"/>	<input type="text"/>	<input type="text"/>	<input type="text"/>	<input type="text"/>	<input type="text"/>	<input type="text"/>	<input type="text"/>	<input type="text"/>	<input type="text"/>
Počet stromů	<input type="text"/>	<input type="text"/>	<input type="text"/>	<input type="text"/>	<input type="text"/>	<input type="text"/>	<input type="text"/>	<input type="text"/>	<input type="text"/>	<input type="text"/>



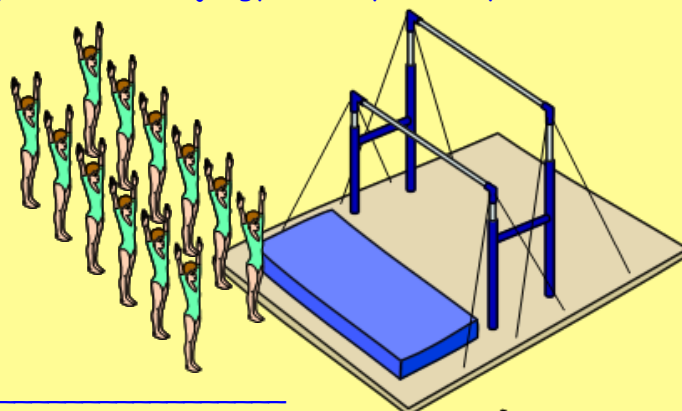
12 gymnastek se řadilo na soutěži do dvojic po 2. Kolik dvojic gymnastky utvořily?

Zápis:
gymnastek
řadili se
dvojic



_____ po _____


Výpočet: x = _____
x = _____



Odpověď: _____

Počet fotbalistů
Počet dvojic

<input type="checkbox"/>	<input type="checkbox"/>	<input type="checkbox"/>	<input type="checkbox"/>	<input type="checkbox"/>	<input type="checkbox"/>	<input type="checkbox"/>	<input type="checkbox"/>	<input type="checkbox"/>	<input type="checkbox"/>
<input type="checkbox"/>	<input type="checkbox"/>	<input type="checkbox"/>	<input type="checkbox"/>	<input type="checkbox"/>	<input type="checkbox"/>	<input type="checkbox"/>	<input type="checkbox"/>	<input type="checkbox"/>	<input type="checkbox"/>



Vypočítej polovinu z daného čísla:

Polovinu z daného čísla vypočítáme tak, že číslo

Tomáš snědl polovinu jahod:
Kolik snědl jahod?



GOOD
JOB!



Lenka snědla polovinu jablek:
Kolik snědla jablek?



Polovina ze 4 4 : 2 = 2

Polovina z 10 _____

Polovina z 8 _____

Polovina ze 16 _____

Polovina z 20 _____

Polovina ze 6 _____

Polovina ze 2 _____

Polovina z 18 _____

Polovina z 12 _____

Polovina ze 14 _____

Monika snědla polovinu banánů:
Kolik snědla banánů?



Petr snědl polovinu bonbónů:
Kolik snědl bonbónů?



Petra měla 20 jahod. Polovinu jahod dala sestře Lence. Kolik jahod dala Lence?

Zápis:

Jahod _____

Lence dala polovinu z _____

Lence dala _____

Výpočet: $x =$ _____

$x =$ _____

Odpověď: _____



Číslo	20	10	6	8	14	16	2	12	4	18
Polovina z čísla										

1 pár = 2 kusy

2 páry = ___ kusy

3 páry = ___ kusů

4 páry = ___ kusů

5 párů = ___ kusů

6 párů = ___ kusů

7 párů = ___ kusů

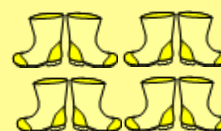
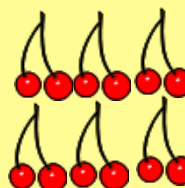
8 párů = ___ kusů

9 párů = ___ kusů

10 párů = ___ kusů



1 pár



1 pár

6 párů


1 pár

4 páry

2 páry

3 páry

Procvičuj násobení $\cdot 2$ a dělení $: 2$



Zdroje:

